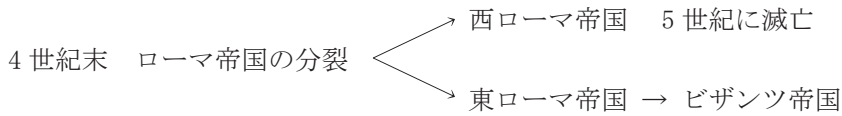


# 17 ヨーロッパ世界の発展

## Point

### 1 中世のヨーロッパとキリスト教



西ヨーロッパでは、 を頂点とする  が大きな権威をもつ

1096年  の遠征が始まる … 約200年間続く

目的：イスラム教徒から聖地エルサレムを取り戻すこと

結果：遠征の失敗 → 教皇の権威が弱まる

影響：イタリア商人がイスラム商人と貿易し、イスラムの進んだ学問・文化をもたらす

(例) 紙、火薬、せんせいじゆつ占星術、れんきんじゆつ錬金術など

### 2 ルネサンス

14世紀頃～イスラムとの貿易で、北イタリアの都市が栄える  
古代ギリシャ・ローマの文化への関心が高まる

自由でいきいきした人間を文学や美術で描く動き →  [文芸復興]

絵画・彫刻 … レオナルド・ダ・ビンチ / ミケランジェロ

天文学 … コペルニクス / ガリレイ→地動説

### 3 宗教改革

十字軍の失敗→教皇やカトリック教会の権威が衰え、資金不足となる

1517年  がドイツで始まる

ルター

発端：カトリック教会が免罪符を販売して、収入を得ようとしたこと

→ **ルター**がこれに反対し、教会の改革を唱える

… 聖書だけが信仰のよりどころ

スイスでも**カルバン**が改革を唱える



カトリックに対して  (抗議する者) とよばれる

カトリック側は、 を設立し、勢力の回復をめざして、アジアや中南アメリカで布教活動を行う

#### 4 大航海時代

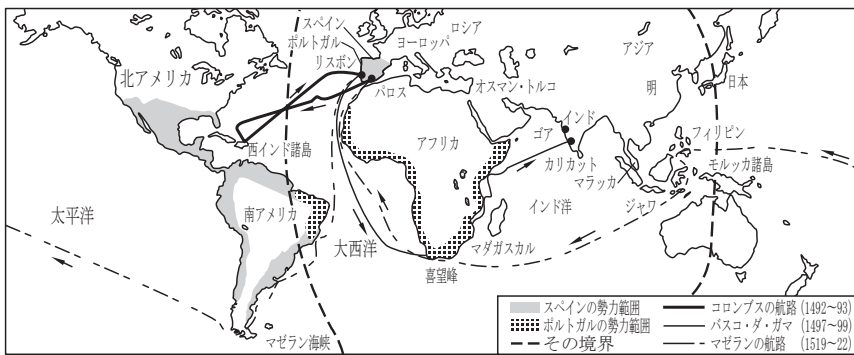
15世紀後半 羅針盤の実用化・航海術の進歩

→ 新航路を開拓

目的：中国やインドから、直接  を得ること

イスラム勢力に対抗してキリスト教を広めること

1492年	<input type="text" value="2"/>	イタリア人	スペインの援助で西インド諸島に到達
1498年	<input type="text" value="3"/>	ポルトガル人	アフリカの喜望峰を回ってインドに到着
1519～22年	<input type="text" value="4"/>	スペイン人	西からアジアに向かい、マゼランは太平洋で死亡するも、部下が世界一周に成功し、地球は球体であることを証明



#### 5 ヨーロッパ諸国の世界進出

ポルトガル … 中国や日本に進出し、アジア貿易で大きな利益

スペイン … 南アメリカ大陸で先住民を武力で滅ぼし、 とする

アメリカやアジアに勢力を広げ、「日の沈むことがない国」とよばれた

オランダ … スペインから独立して、東インド会社を設立し、ポルトガルにかわってアジアに進出してヨーロッパの貿易や金融の中心となる

#### 6 鉄砲・キリスト教の伝来

1543年  の伝来 ポルトガル人が種子島に漂着

… 戦国大名の間に広まり、戦術・築城法が変化 → 天下統一が早まる

1549年 キリスト教の伝来 イエズス会の  が鹿児島へ

→ キリシタン大名の増加 … キリスト教を保護

スペイン・ポルトガルとの貿易が活発化 =

→ 南蛮人

└─ 日本から輸出 … 銀

└─ 日本へ輸入 … 鉄砲・生糸

標準・応用・発展クラス問題

目標時間 7分

次のA～Fのカードは、7～16世紀に活躍した人物を示している。これらを見て、次の問いに答えよ。

**A** わたしは、教会が支持する天動説に対して、実験や観察によって現実の世界をとらえようとする立場から、地動説を唱えました。

**B** わたしは、スペインのイサベラ女王の援助を受けて、大西洋を横断し、西回りでアジアをめざし、1492年に西インド諸島に到達しました。

**C** わたしは、リスボンを出航し、アフリカの喜望峰をまわりインド洋を横断して、1498年にインドのカリカットに着きました。

**D** わたしは、西まわりで南アメリカの南端を経て太平洋を横断しましたが、フィリピンで殺され、その後、部下が世界一周を成功させました。

**E** わたしは、教会が（ a ）を販売したことに抗議し、信仰のよりどころは聖書にあると唱え、宗教改革を始めました。

**F** わたしは、ロヨラとともに、カトリック教会の勢力を盛り返そうと（ c ）を結成し、海外布教を始めました。

(1) カードAの人物が活躍したころのヨーロッパのようすについて、①・②の問いに答えよ。

① このころヨーロッパに広まった、古代ギリシャやローマの文化を手本に、現実の生活を重んじ、人間性を回復させる動きを何というか。

② ①の時期に活躍し、「万能の天才」といわれ、絵画では『モナ＝リザ』や『最後の晩餐』などの優れた作品を残した人物はだれか。

(2) カードBが示している人物はだれか。その名前を書け。

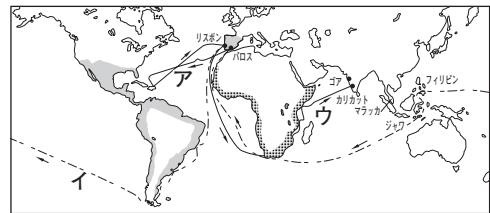
(3) カードCとDの人物が開拓した新航路を、右の地図中のア～ウからそれぞれ1つ選べ。

C

D

(4) カードE中の（ a ）にあてはまる語句を、漢字3字で書け。

地図



(5) カードF中について、①・②の問いに答えよ。

① 下線部bに対して、宗教改革を支持する人々は何とよばれたか。

② （ c ）には、宗教改革ののちに海外布教を始めた修道会の組織名があてはまる。その組織名を書け。

- (1) ローマ＝カトリック教会の最高実力者を何というか。
- (2) 1517年にドイツでルターが始めたキリスト教の変革を何というか。
- (3) ヨーロッパでの信者数が減少したローマ＝カトリック教会が、勢力を回復するために結成した組織を何というか。
- (4) 大航海時代に、ヨーロッパ人は何を求めてアジアと直接貿易をしようとしたか。
- (5) 1492年に、西インド諸島に到達した人物はだれか。
- (6) 1498年に、アフリカの喜望峰を回ってインドに到達した人物はだれか。
- (7) マゼラン<sup>いっこう</sup>一行が人類史上初めて成功したことは何か。
- (8) ポルトガル人が種子島に漂着して、日本に伝えたものは何か。
- (9) 鹿児島へ上陸して、日本に初めてキリスト教を伝えた人物はだれか。
- (10) キリスト教が伝わった当時、スペイン人やポルトガル人は何とよばれたか。